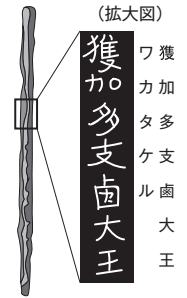


社会 入試直前対策問題

【問1】 友香さんは、日本における金属の利用について興味をもち、調べたことをカード1～4にまとめた。各問いに答えなさい。

カード1 古代	資料1は稲荷山古墳（埼玉県）から出土した鉄剣で、5世紀後半のものと考えられている。「大王」という文字から、a大和政権の支配が日本の広い地域まで及んでいたことがわかる。また、壬申の乱で勝利して即位したあ天皇の時代に、中国にならって、b富本銭という日本で最初の銅銭が造られた。
------------	--

資料1 ワカタケル大王の名を刻んだ鉄剣



- (1) カード1のあに当てはまる人物名を、漢字2字で書きなさい。
- (2) カード1の下線部aにかかわって、古墳時代のできごととして適切なものを、次のア～エから2つ選び、記号を書きなさい。

ア	朝鮮半島からの渡来人が増え、須恵器を作る技術と漢字や儒学を伝えた。
イ	奴国の王が、漢に使いを送り、皇帝から金印を授けられた。
ウ	大和政権が、九州地方から東北地方南部までの有力な豪族を従えていた。
エ	唐の律令にならった大宝律令が完成した。
- (3) カード1の下線部bにかかわって、日本で使われた貨幣について述べた文として適切なものを、次のア～エからすべて選び、記号を書きなさい。

ア	平城京が造られたころ、唐にならって、和同開珎などの貨幣が発行された。
イ	日明貿易では、銅銭を大量に輸入した。
ウ	織田信長は各地の金山・銀山を直接支配して、天正大判という統一的な金貨を発行した。
エ	江戸時代には寛永通宝という銅銭が全国に流通したため、明銭などは使われなくなった。

カード2 中世	c鎌倉時代には、農作業に牛や馬が利用され、鉄製の農具も広まった。そのため村には、農具を造る鍛冶屋なども住み着いた。室町時代は、金・銀・砂鉄などの採掘も進んだ。例えば、石見銀山はd戦国大名が保護を与えた博多の商人によって開発された。
------------	---

- (4) カード2の下線部cにかかわって、北条氏が代々独占した、鎌倉幕府の中の地位として最も適切なものを、次の選択肢Wのア～エから1つ選び、記号を書きなさい。また、元寇より後の鎌倉時代に起こったできごとについて述べた文として最も適切なものを、下の選択肢Xのオ～クから1つ選び、記号を書きなさい。


選択肢W	〔ア 摂政 イ 関白 ウ 執権 エ 管領 〕
選択肢X	〔オ 平清盛は、日宋貿易の利益に着目し、航路や兵庫の港を整備した。 カ 後醍醐天皇は、天皇中心の新しい政治である建武の新政を始めた。 キ 幕府は御家人の借金を取り消し、手放した土地を取り返させる永仁の徳政令を出した。 ク 北条泰時は、政治の判断の基準となる御成敗式目を定めた。〕
- (5) カード2の下線部dにかかわって、戦国大名の朝倉氏は領国の統治にどのような工夫をしたか、資料2、3をもとに、城下町、家臣の2語を使って、簡潔に書きなさい。

資料2 分国法の例

一 本拠である朝倉館のほか、国の中に城を構えてはならない。領地のある者はすべて一乗谷に移住し、村には代官くらいの置くべきである。

〔朝倉孝景条々〕より部分要約

資料3 中世の一乗谷の想像図



カード3 近世	e徳川家康が江戸幕府を開いた17世紀の初めには、金・銀は世界有数の産出量になっていた。幕府は金座や銀座で貨幣を造ったり、銅を長崎でのg貿易で輸出したりした。
------------	--

- (6) カード3の下線部eにかかわって、貿易を望む大名や豪商に東南アジアへの渡航許可証を発行して行った貿易を何というか、漢字5字で書きなさい。
- (7) カード3の下線部fにかかわって、江戸幕府の対外政策について述べた文として適切なものを、次のア～エから2つ選び、記号を書きなさい。
- ア 貿易や布教のために日本にやってきたポルトガル人やスペイン人と、南蛮貿易を行った。

イ 朝鮮との交渉を進めるため、清と対等な条約である日清修好条規を結んだ。

ウ 長崎に奉行所を置き、オランダ・中国との貿易を管理した。

エ 蝦夷地の南部を支配する松前藩に、アイヌ民族との交易の独占を認めた。
- (8) カード3の下線部gにかかわって、1853年にペリーが開国を求めてきた時に、幕府は国内の意見をまとめるため、先例を破り大名の意見を聞き、朝廷にも報告した。これにより幕府の政治にどのような変化が起きたか、雄藩、朝廷の2語を使って、簡潔に書きなさい。

カード4 近代	明治時代になり、新政府はh学制・兵制・税制の三つの改革や殖産興業政策のもとで近代産業を発展させ、特に鉄鋼業は日本の経済発展を支えた。そうした近代化を進める中で、日本は清やロシアと戦争を行い、新たなi領土を得ていった。
------------	--

- (9) カード4の下線部hにかかわって、明治時代の日本での教育制度について述べた文として適切なものを、次のア～エから1つ選び、記号を書きなさい。
- ア 国民学校で、軍国主義的な教育が進められた。

イ 小学校での教育が重視され、満6歳以上の男女をすべて通わせることが義務になった。

ウ 庶民の間に教育への関心が高まり、町や農村に寺子屋が開かれた。

エ 民主主義の教育の基本を示す、教育基本法が作られた。
- (10) カード4の下線部iにかかわって、略年表のAの期間の日本の領土として適切なものを、次の選択肢Yのア～エからすべて選び、記号を書きなさい。また、略年表のBの期間に起きたできごと¹に当てはまらないものを、選択肢Zのオ～クからすべて選び、記号を書きなさい。

略年表

年	できごと
1905	ポーツマス条約を結ぶ
	↓ A
1910	韓国を併合する
	↓ B
1925	普通選挙法が公布される

- 選択肢Y
- ア 台湾

イ 千島列島

ウ 南樺太

エ 山東半島
- 選択肢Z
- オ 日本が中国に対して、二十一か条の要求を示した。

カ 本格的な政党内閣である、原敬内閣が発足した。

キ 日英同盟を結び、ロシアに対抗した。

ク ニューヨークで株価が大暴落し、世界恐慌が起きた。

- (11) 友香さんは、日本における金属の利用について振り返り、さらに別のできごとを5つ取り上げた。その5つのできごとである次のア～オが、古い順になるように左から並べて、記号を書きなさい。
- ア 金や馬などの産物と北方との交易によって栄えた奥州藤原氏が、中尊寺金色堂を建てた。

イ 日清戦争後に、官営の八幡製鉄所が建設された。

ウ 仏教が重んじられるようになり、金銅製の仏像である法隆寺の釈迦三尊像が造られた。

エ 高度経済成長の時期に、家庭電化製品や自動車が普及した。

オ ポルトガル人によって鉄砲が伝えられ、堺などでも造られるようになり、各地に広まった。

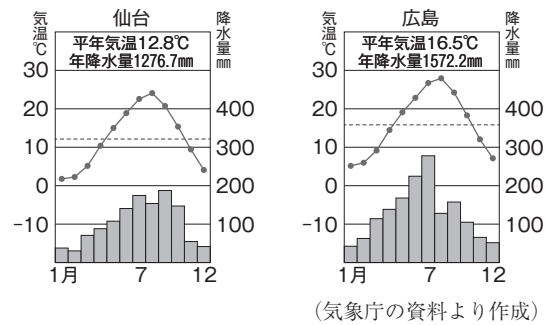
【問2】 各問いに答えなさい。

I 智さんは、仙台市について資料1～5を用意し、ノート1にまとめた。

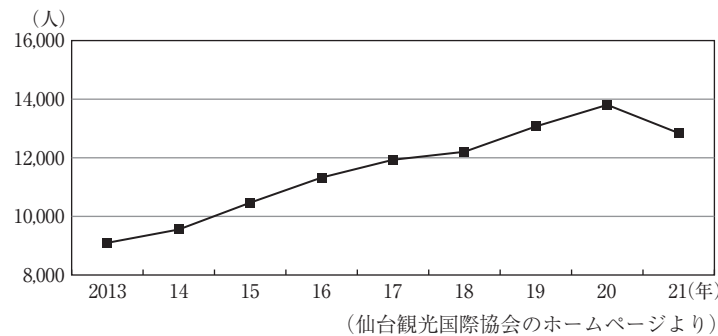
ノート1

資料1から、仙台市は広島市と比べて、夏の気温が **あ** ことがわかる。これはやませとよばれる **い** の風がふきだすことがあり、それがもたらす冷気や、霧による日照不足が影響している。人口は約109万人で、東北地方最大の都市である。そして、仙台市内で暮らす **a**外国人住民が暮らしやすいようなさまざまな工夫をしている。東日本大震災からの **b**復興が進んでいる一方で、経済的には課題も残っている。

資料1 仙台市と広島市の雨温図



資料2 仙台市における外国人住民数（各年4月30日現在）

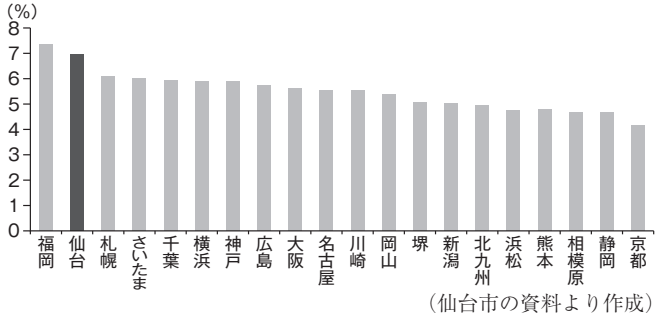


資料3 地域日本語教育の体制整備事業

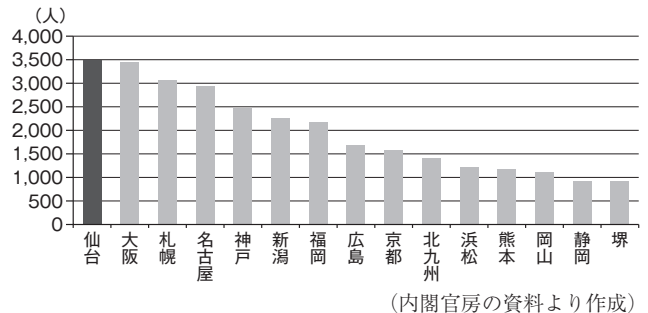
日本語教室や関係機関・団体と連携し、日本語教育体制整備事業を通じて、地域日本語教育の充実を図り、言葉や文化の違いをこえて、誰もが生き生きと暮らすことができる「多文化共生のまちづくり」を推進します。
(部分要約)

(仙台観光国際協会のホームページより)

資料4 政令指定都市の新規開業率(2014-2016年の平均)



資料5 東京圏への流入人口(2017年)



- (1) ノート1の **あ**, **い** に当てはまる語句の組み合わせとして最も適切なものを、次のア～エから1つ選び、記号を書きなさい。
- | | | | | | | | |
|---|---|-------------|-------------|---|-------------|-------------|---|
| 〔 | ア | あ 低い | い 北東 | イ | あ 低い | い 北西 | 〕 |
| | ウ | あ 高い | い 北東 | エ | あ 高い | い 北西 | |
- (2) ノート1の下線部 **a** にかかわって、仙台市の行政は外国人受け入れのためにどのような取り組みをしているか。資料2, 3からそれぞれ読み取れることにふれて、簡潔に書きなさい。
- (3) ノート1の下線部 **b** にかかわって、仙台市の経済面での特色について、資料4, 5から読み取れることにふれて、簡潔に書きなさい。
- (4) 智さんは仙台市の産業を、人口が似た規模の広島市と比較するため、資料6を用意し、ノート2にまとめた。ノート2の **う**～**お** に当てはまる最も適切なものを、下のア～クから1つずつ選び、記号を書きなさい。ただし、**う**～**お** には、それぞれ異なる記号が入る。

資料6 仙台市と広島市の比較

	人口	製造業事業者数	サービス業事業所数	20～30歳代の人口比率
仙台市	約109万人	461	10,275	27.1%
広島市	約119万人	1,109	10,954	23.4%

(仙台市のホームページなどより作成)

ノート2

仙台市と広島市の人口の差は約 **う** 万人である。製造業事業所数は広島市が仙台市の約 **え** 倍で、サービス業事業所数も広島市の方が多い。そこで、20～30歳代の人口比率は **お** 市の方が3.7%高いが、地元の就職先が少ないという課題がある。

[ア 2 イ 2.4 ウ 2.8 エ 3 オ 10 カ 100 キ 仙台 ク 広島]

(5) 智さんは、ここまで調べてきたことについて友達と話し合い、資料7～9を用意して、考えを深めた。

会話文

智：仙台市は小売業やサービス業などの第三次産業が盛んだとわかったけど、そうなる観光なども大事になってくるね。

亮：仙台市は「杜の都」と呼ばれていて、市民からも愛されている街なんだ。

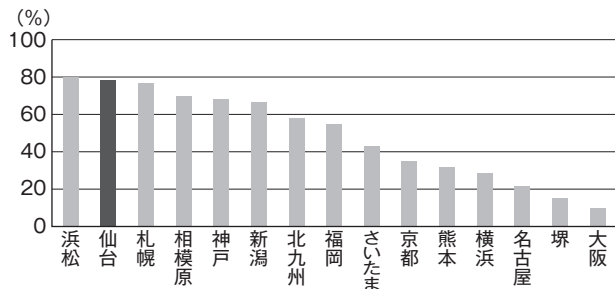
誠：明治時代には、「森の都」と表記していたみたいだ。

智：ところで、仙台を訪れた観光客の人たちが記念に買っていくおみやげって何だろう。

亮：宮城県は宮城伝統こけしが有名で、国の伝統的工芸品に指定されているよ。

誠：d商品として売るためには、さまざまな工夫が必要になりそうだね。

資料7 政令指定都市との緑被率の比較



※緑被率とは、一定の広がり地域で樹木など緑で覆われる面積割合のこと。(仙台市建設局の資料より作成)


資料8 「杜の都」のいわれ

江戸時代に仙台藩祖の伊達政宗公は、家臣たちに、屋敷内には飢餓に備えて、栗・梅・柿などの実のなる木や竹を、また、隣との境に杉を植えるように奨めました。こうしてできた屋敷林と、お寺や神社の林、そして広瀬川の河畔や青葉山の緑が一体となって仙台は、まち全体が緑に包まれていました。

(仙台市のホームページより)

- ① 会話文の下線部 c にかかわって、仙台市が「杜の都」と呼ばれるようになった理由について、資料7, 8から読み取れることをもとに、樹木, 神社の2語を使って、簡潔に書きなさい。
- ② 会話文の下線部 d にかかわって、智さんは資料9を見つけた。このような伝統的工芸品の販売を促進するため、生産者にはどのような工夫が求められているか。資料9から読み取れることを、生活様式という語を使って、簡潔に書きなさい。

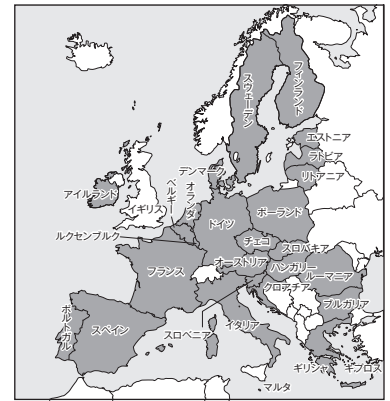
資料9 IH調理器具に対応した南部鉄器



II 智さんは、EUによる統合が進むヨーロッパ州に興味を持ち、調べたことをノート3にまとめた。

ノート3
 ヨーロッパで最も広く信仰されているのは **か** 教であり、これは文化とも深く結びついている。また、言語も英語やドイツ語を中心とした **き** 系言語、フランス語やイタリア語を中心としたラテン系言語、ロシア語やポーランド語を中心としたスラブ系言語などさまざまな言語を使う人々がいる。20世紀後半からはヨーロッパの経済や政治面での統合が進み、1993年に eEUが成立した。

略地図 EU加盟国



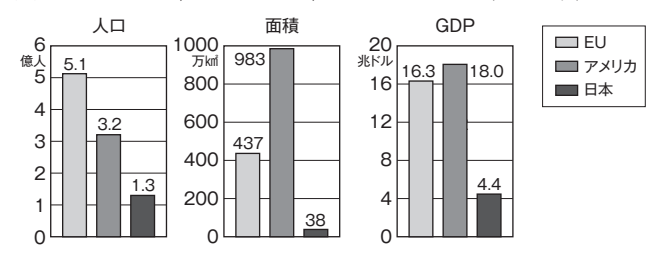
- (1) ノート3の **か** , **き** に当てはまる適切な語句を、それぞれ書きなさい。
- (2) ノート3の下線部 e にかかわって、EUについて調べ、資料10～12を用意した。

資料10 EU諸国の月額最低賃金 (2019年1月)

西ヨーロッパの加盟国	最低賃金 (ユーロ)	東ヨーロッパの加盟国	最低賃金 (ユーロ)
ルクセンブルク	2,071	ギリシャ	684
ベルギー	1,594	ポーランド	700
オランダ	1,616	ハンガリー	464
フランス	1,521	チェコ	519

(ユーロスタットの資料より)

資料11 EU, アメリカ, 日本の比較 (2015年)



(国連資料ほかより作成)

- ① EUの現状について述べた文として適切なものを、次のア～エからすべて選び、記号を書きなさい。

ア EU加盟国間の国境ではパスポートの検査がなく、自由に通過できる。

イ EU加盟国間では、他国の選挙に参加することができる。

ウ 加盟国の多くが共通通貨ユーロを導入しており、国境をこえた買い物が活発になっている。

エ EUに加盟する国の間では、言語の統一が進められている。
- ② 西ヨーロッパのEU加盟国の中には、東ヨーロッパに工場を移転する企業もある。その理由を、資料10から読み取れることをもとに、簡潔に書きなさい。
- ③ ヨーロッパの国々が国境をこえて経済的な結びつきを強めた理由を、資料11から読み取れることをもとに、対抗という語を使って、簡潔に書きなさい。
- ④ 東ヨーロッパのEU加盟国の1つであるルーマニアの輸出額と相手国の変化について、資料12から読み取れることとして適切なものを、下のア～エから2つ選び、記号を書きなさい。

資料12 ルーマニアの輸出額と相手国の変化



(国連資料より作成)

- ア 1990年には、輸出相手国の上位4か国の割合の合計は50%を上回っている。

イ 1990年のソ連への輸出額は、15億ドルを超えている。

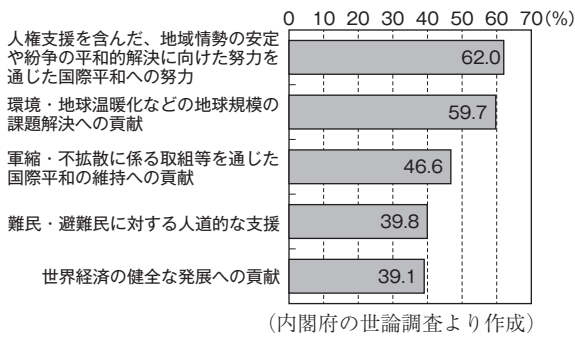
ウ 2017年のドイツへの輸出額は、1990年のルーマニアの輸出総額よりも多い。

エ 1990年と2017年を比べると、輸出総額は12倍以上に増えている。

【問3】 各問いに答えなさい。

I 徹さんは世界で起こっている国際的な問題に興味をもち、調べたことをノート1にまとめた。

資料1 日本が果たすべき役割



資料2 日本の海水淡水化技術

地球上の海水をろ過し、飲用水や生活水に変える技術を、海水淡水化技術という。中東やアフリカなどで導入され、1日あたり6000万トンの真水の生産に成功している。
(株式会社アピステのホームページより)

資料3 スーダンの内戦

スーダン国内での激しい戦闘により、うが数多く発生し、近隣諸国になだれ込むことがある。
(NHKのホームページより)

ノート1

SDGs (あ 開発目標) の一つに、「安全な水とトイレを世界に」がある。資料1でも「環境・地球温暖化などの地球規模の課題解決への貢献」が約 い 割を占めている。また、資料2の例のように、日本の a 国際貢献の道は数多くある。一方、資料3のような事態には、国連 う 高等弁務官事務所 (UNHCR) も各国に自国民の避難を呼びかけるなどした。このような状況に対し、日本政府としても b 内閣が他国と条約を締結する権限などを行使し、国際的な役割を担う必要があると考えた。

(1) ノート1の あ , い に当てはまる語の組み合わせとして最も適切なものを、次のア～エから1つ選び、記号を書きなさい。

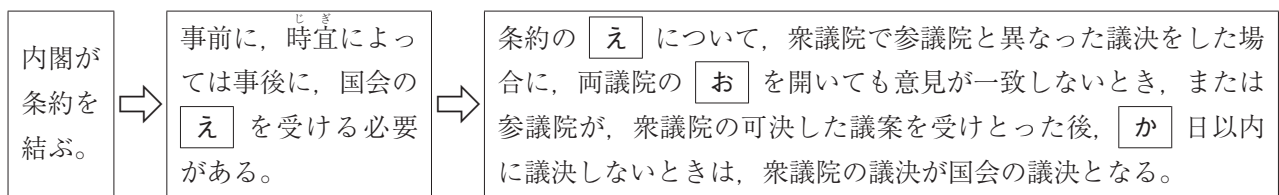
- | | | | | | | |
|---|---|----------------|------------|---|----------------|------------|
| 〔 | ア | <u>あ</u> 持続可能な | <u>い</u> 5 | イ | <u>あ</u> 再生可能な | <u>い</u> 5 |
| | ウ | <u>あ</u> 持続可能な | <u>い</u> 6 | エ | <u>あ</u> 再生可能な | <u>い</u> 6 |

(2) ノート1の下線部 a にかかわって、先進国の政府機関から発展途上国へ行われる経済援助の略称を何というか。アルファベット3字で書きなさい。

(3) 資料3とノート1の う に共通して当てはまる最も適切な語句を、漢字で書きなさい。

(4) ノート1の下線部 b にかかわって、日本の内閣の仕事について調べ、図 を用意した。

図 条約の締結について



① 内閣の仕事について述べた文として適切なものを、次のア～エから2つ選び、記号を書きなさい。

- | | | |
|---|---|-----------------------------|
| 〔 | ア | 法律案や国の予算を審議し、議決を行う。 |
| | イ | 最高裁判所長官の指名と、その他の裁判官の任命を行う。 |
| | ウ | 天皇が国事行為を行うときに、助言と承認を行う。 |
| | エ | 国民に対して、憲法の改正案を示す憲法改正の発議を行う。 |

② 図 の え ～ か に当てはまる最も適切な語句を、次のア～カから1つずつ選び、記号を書きなさい。ただし、え ～ か にはそれぞれ異なる記号が入る。

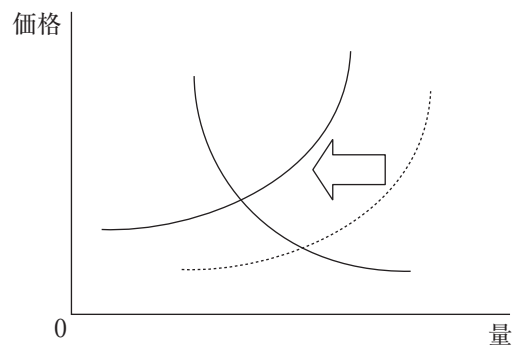
- | | | | | | | | |
|---|------|------|-------|-------|------|------|---|
| 〔 | ア 承認 | イ 助言 | ウ 協議会 | エ 公聴会 | オ 30 | カ 60 | 〕 |
|---|------|------|-------|-------|------|------|---|

II 徹さんは世界で起こっている物価高の問題に興味をもち、調べたことを清さんと話し合った。

会話文

徹：日本では物価高の問題が深刻になっていて、いろいろな商品の値段が上がっているよね。
 清：鉄鋼や石油などの、価格が上昇していることが原因の一つみたいだよ。
 徹：輸入品の値段が上がっているのは、円安も関係があるのかな。
 清：そうだね。経済が悪くなると、雇用も不安定になってくるから心配だよ。

資料4 需要量・供給量と価格の関係



(1) 会話文の下線部cにかかわって、資料4を用意した。

① 資料4で起きている変化について述べた文として適切なものを、次のア～エから1つ選び、記号を書きなさい。

- ア 供給量が増えたので、価格が上がった。
- イ 供給量が減ったので、価格が上がった。
- ウ 需要量が増えたので、価格が上がった。
- エ 需要量が減ったので、価格が上がった。

② 価格について述べた文として適切なものを、次のア～エのうちからすべて選び、記号を書きなさい。

- ア 市場価格のうち、需要量と供給量が一致する価格を均衡価格という。
- イ 市場が独占や寡占の状態だと、価格競争が起きにくくなる。
- ウ 生産者どうしで相談して価格を決めることは、独占禁止法で禁じられている。
- エ 水道やガスなどの公共料金は、全国ですべて一律に同じ価格で設定されている。

(2) 会話文の下線部dにかかわって、考えたことをノート2にまとめた。

ノート2
 例えば、「1ドル=100円」から「1ドル=き円」になることを円安といい、一般的に輸入品の価格が上がる。一方で、円安によって日本からのくは有利になる。

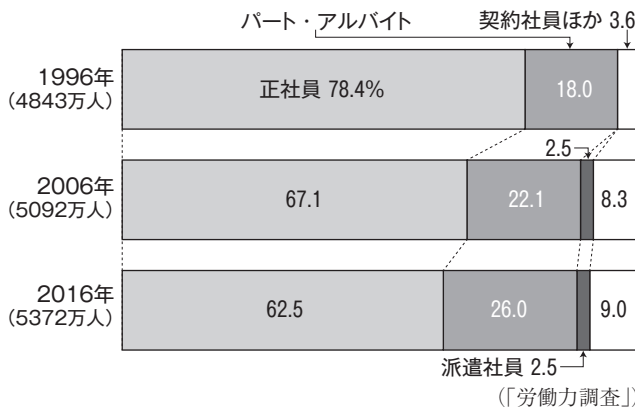
① ノート2の「き」、「く」に当てはまる語句の組み合わせとして最も適切なものを、次のア～エから1つ選び、記号を書きなさい。

- ア き 80 く 海外旅行
- イ き 80 く 自動車の輸出
- ウ き 120 く 海外旅行
- エ き 120 く 自動車の輸出

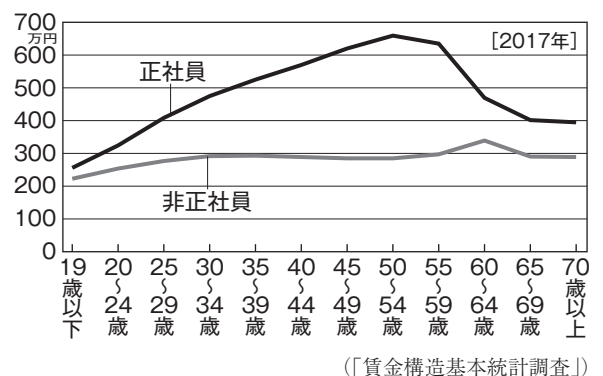
② グローバル化にともない、広大な市場と労働力を求めて、多くの国に進出している企業を何というか。漢字5字で書きなさい。

(3) 会話文の下線部eにかかわって、資料5、6を用意した。非正規労働者の数の変化と賃金の特徴について、資料5、6から読み取れることをもとに、割合、年収の2語を使って、簡潔に書きなさい。

資料5 雇用形態別労働者の割合の推移



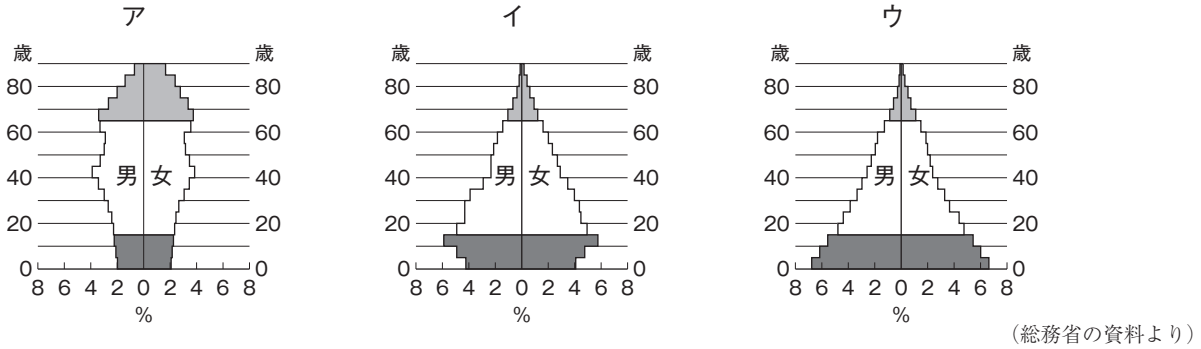
資料6 正社員と非正社員の年齢別平均年収



Ⅲ 徹さんは、日本で起きている人口減少問題について調べ、ノート3にまとめた。

ノート3
 日本では1980年を過ぎたところから出生数が減り、高齢者が増えた結果として「け」が進んだ。また「人口ピラミッド」を見ると、日本は「富士山型」から「つりがね型」、「つぼ型」へと変化してきたことがわかる。このままだと、日本の人口はいっそう減少していき、「g」労働力不足の問題も深刻になると予測される。

資料7 1935年、1960年、2015年の日本の人口ピラミッド



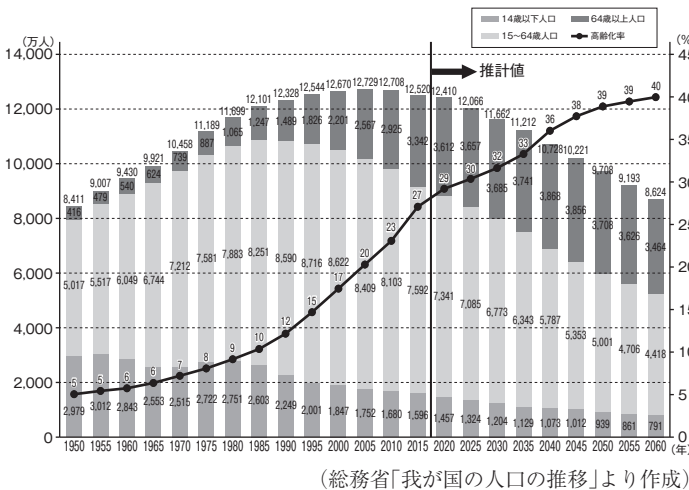
- (1) ノート3の「け」に当てはまる最も適切な語句を書きなさい。
- (2) ノート3の下線部 f にかかわって、資料7のア～ウが古い順になるように左から並べて、記号を書きなさい。
- (3) ノート3の下線部 g にかかわって、徹さんは、これから人口が減少していく日本では、外国人労働者をより多く受け入れて、労働力不足が起きないようにすることがよいのではないかと考えた。外国人労働者を増やすことがよいと考えられる理由（理由）と、外国人労働者を受け入れるうえでの課題（課題）について、条件1～3に従って書きなさい。なお、数字の場合は1字1マス使うこと。

条件1：資料8、9から、それぞれ読み取れることにふれて、理由について書くこと。

条件2：資料8、9から、それぞれ読み取れることにふれて、課題について書くこと。

条件3：「外国人労働者は、」に続け、理由は、「ため、外国人労働者を増やすとよい。」、課題は、「ため、外国人労働者を増やすことには課題がある。」という文末に続くように、それぞれ30字以上50字以内で書くこと。

資料8 日本の将来推計人口



資料9 外国人労働者を育成するうえでの課題

